

Examenul de bacalaureat național 2020
Proba E. d)
Geografie

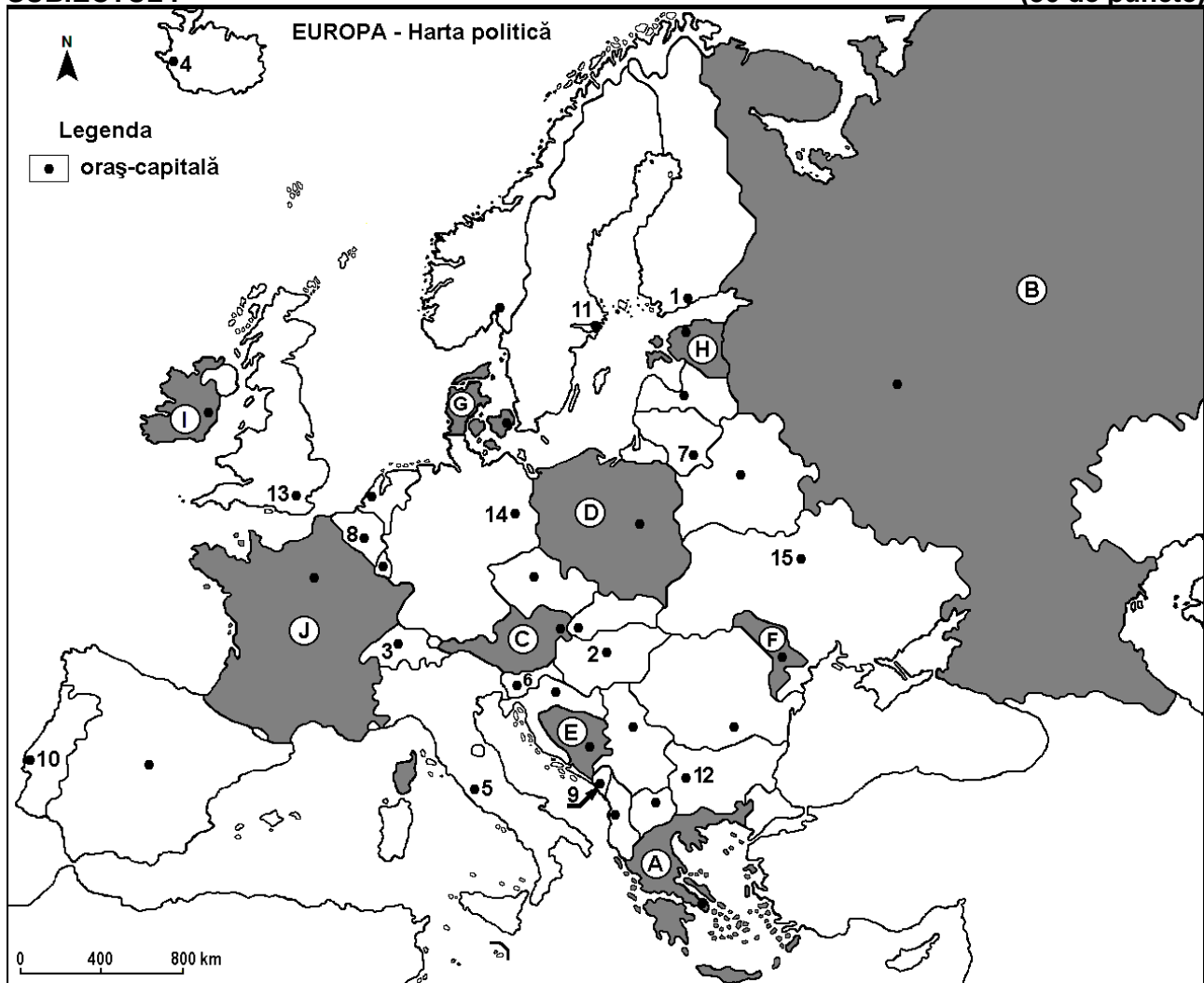
Test 2

Profilul umanist din filiera teoretică, profilul servicii din filiera tehnologică și toate profilurile și specializările din filiera vocațională, cu excepția profilului militar

- Toate subiectele sunt obligatorii. Se acordă 10 puncte din oficiu.
- Timpul efectiv de lucru este de 3 ore.

SUBIECTUL I

(30 de puncte)



Harta de mai sus se referă la subiectul I A – D. Pe hartă sunt marcate state cu litere și orașe – capitală cu numere.

A. Precizați:

1. numele statului marcat, pe hartă, cu litera **C**;
2. numele orașului-capitală marcat, pe hartă, cu numărul **15**. **4 puncte**

B. Scrieți, pe foaia de examen, răspunsurile corecte care completează afirmațiile de mai jos:

1. Capitala statului marcat, pe hartă, cu litera **B** se numește ...
2. Statul marcat, pe hartă, cu litera **H** se numește ...
3. Orașul-capitală marcat, pe hartă, cu numărul **3** se numește ... **6 puncte**

C. Scrieți, pe foaia de examen, litera corespunzătoare răspunsului corect pentru fiecare dintre afirmațiile de mai jos:

1. Orașul Atena este capitala statului marcat, pe hartă, cu litera:

a. A	b. G	c. I	d. J	2 puncte
------	------	------	------	-----------------

2. Statul marcat, pe hartă, cu litera **G** se numește:

- a. Danemarca b. Estonia c. Letonia d. Lituania **2 puncte**

3. Versantul estic al Alpilor Scandinaviei se află pe teritoriul statului al cărui oraș-capitală este marcat, pe hartă, cu numărul:

- a. 3 b. 5 c. 11 d. 14 **2 puncte**

4. Vegetația de tip maquis este caracteristică regiunilor din sudul statului marcat, pe hartă, cu litera:

- a. F b. G c. I d. J **2 puncte**

5. Orașul-capitală a statului marcat, pe hartă, cu litera **D** se numește:

- a. Berlin b. Riga c. Varșovia d. Vilnius **2 puncte**

D. Precizați trei deosebiri între **clima** statului marcat, pe hartă, cu litera **F** și **clima** statului marcat, pe hartă, cu litera **I**.

Nota 1: Deosebirile se pot referi la oricare dintre următoarele elemente de **climă**: factori genetici, tip de climă, temperaturi medii anuale/vara/iarna, amplitudine termică, precipitații medii anuale/vara/iarna, vânturi cu frecvență ridicată.

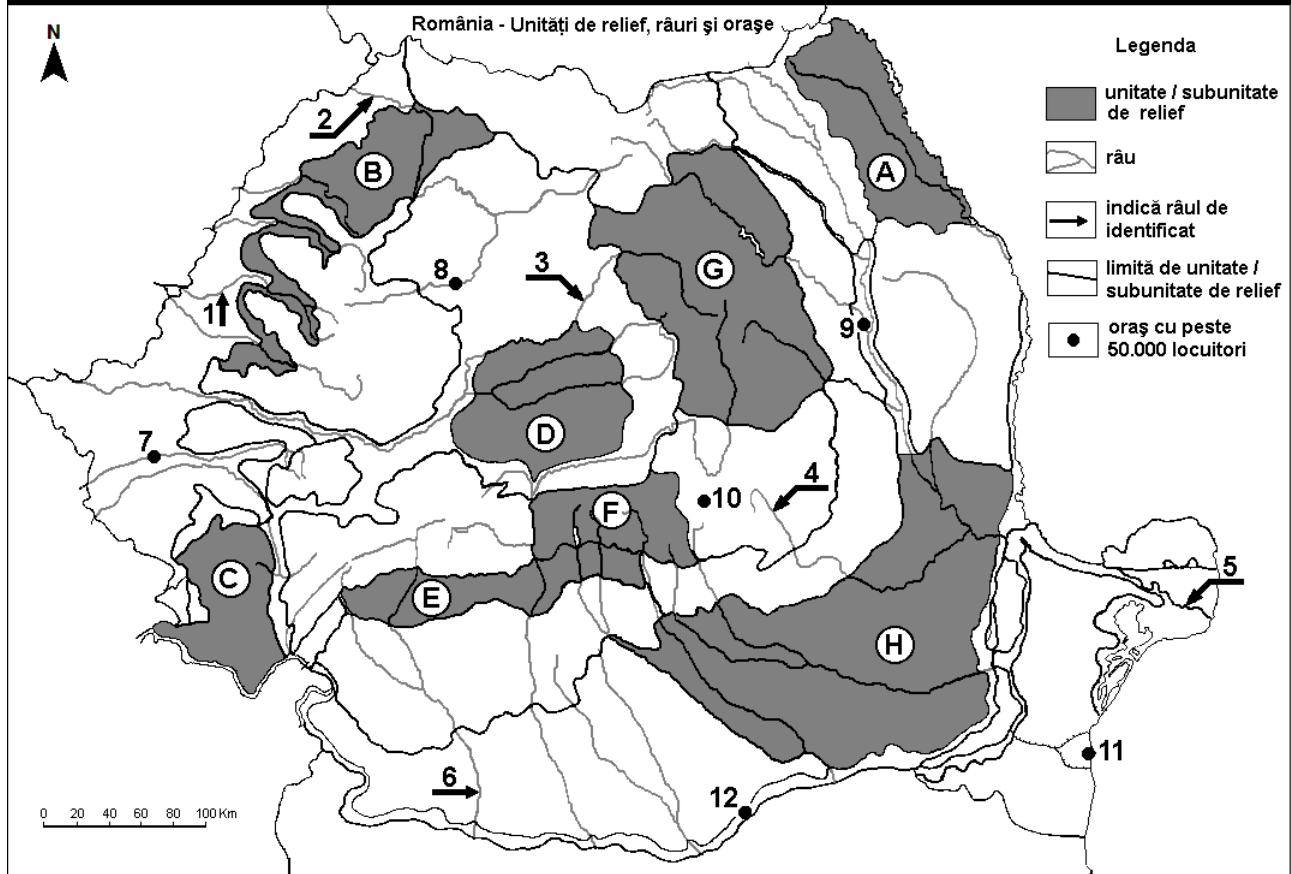
Nota 2: Punctajul complet va fi acordat numai dacă deosebirile vor fi prezentate comparativ și nu separat. **6 puncte**

E. 1. Explicați prezența lacurilor glaciare în Munții Alpi. **2 puncte**

2. Prezentați o cauză a mobilității teritoriale a populației în cadrul Uniunii Europene. **2 puncte**

SUBIECTUL al II-lea

(30 de puncte)



Harta de mai sus se referă la subiectul II A – D. Pe hartă sunt marcate unități de relief cu litere, râuri cu numere de la 1 la 6 și orașe cu numere de la 7 la 12.

A. Precizați:

1. numele orașului marcat, pe hartă, cu numărul 11;

2. numele râului marcat, pe hartă, cu numărul 4.

4 puncte

B. Scrieți, pe foaia de examen, răspunsurile corecte care completează afirmațiile de mai jos:

1. Râul marcat, pe hartă, cu numărul 3 se numește ...

2. Râul Bega străbate orașul marcat, pe hartă, cu numărul ...

3. Orașul marcat, pe hartă, cu numărul **10** se numește ... **6 puncte**

C. Scrieți, pe foaia de examen, litera corespunzătoare răspunsului corect pentru fiecare dintre afirmațiile de mai jos:

1. Orașul marcat, pe hartă, cu numărul **8** este străbătut de râul:

a. Mureș b. Someș c. Someșul Mare d. Someșul Mic **2 puncte**

2. Vegetația de stepă este caracteristică în estul unității de relief marcate, pe hartă, cu litera:

a. B b. C c. E d. H **2 puncte**

3. Orașul marcat, pe hartă, cu numărul **12** se numește:

a. Alexandria b. Călărași c. Giurgiu d. Slatina **2 puncte**

4. Brațul Dunării marcat, pe hartă, cu numărul **5** se numește:

a. Borcea b. Chilia c. Sfântu Gheorghe d. Sulina **2 puncte**

5. Zăcămintele de cărbuni, petrol și gaze naturale există în unitatea de relief marcată, pe hartă, cu litera:

a. A b. C c. E d. F **2 puncte**

D. Precizați trei deosebiri între **relieful** unității marcate, pe hartă, cu litera **D** și **relieful** unității marcate, pe hartă, cu litera **F**.

Nota 1: Deosebirile se pot referi la oricare dintre următoarele aspecte ale **reliefului**: mod de formare, tipuri de roci pe care s-a format relieful, altitudini, gradul de fragmentare, tipuri genetice de relief, orientarea culmilor și a văilor principale, dispunerea depresiunilor, alte aspecte specifice ale reliefului.

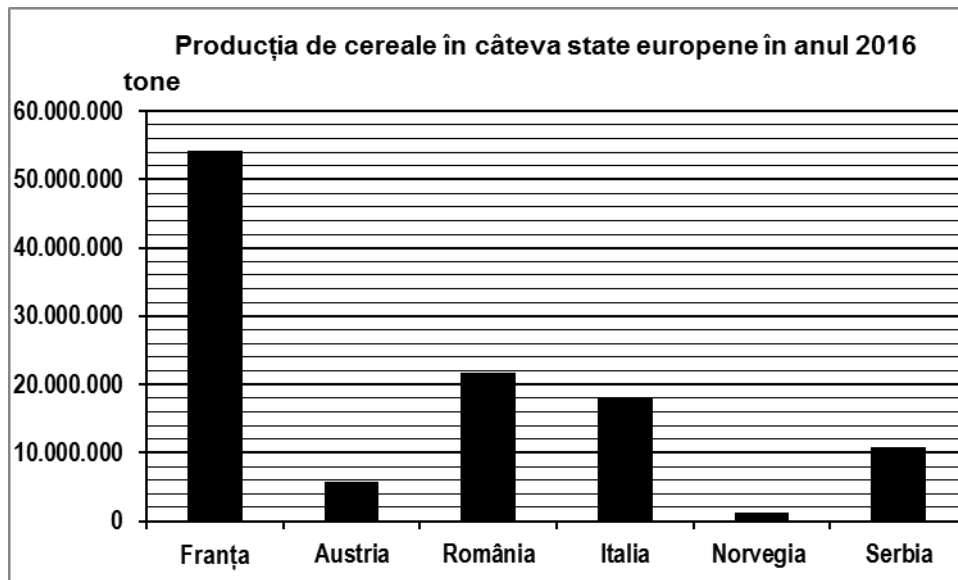
Nota 2: Punctajul complet va fi acordat numai dacă cele trei deosebiri vor fi prezentate comparativ și nu separat. **6 puncte**

E. Precizați două cauze care să explice diferența dintre precipitațiile medii anuale înregistrate în Munții Apuseni și în Podișul Dobrogei. **4 puncte**

SUBIECTUL al III-lea

(30 de puncte)

Reprezentarea grafică de mai jos se referă la subiectul **III A-B** și prezintă producția de cereale (tone) obținută în câteva state europene, în anul 2016. *Sursa: Eurostat*



A. Precizați:

1. valoarea celei mai mari producții de cereale obținute într-un stat care **nu** este membru al Uniunii Europene;
2. valoarea producției de cereale obținute în România;
3. valoarea producției de cereale obținute în Austria.

4 puncte

B. 1. Precizați numele unei câmpii din Italia care reprezintă o importantă regiune de cultură a cerealelor.

2. Prezentați un factor natural care determină producția mare de cereale obținută de Franța.

3. Prezentați un factor natural care determină producția mică de cereale obținută de Norvegia.

6 puncte

C. Pentru **Serbia**, precizați numele:

1. a patru state vecine membre ale Uniunii Europene;

2. a trei unități de relief;

3. unei hidrocentrale construite în colaborare cu România;

4. a două orașe, altele decât capitala.

10 puncte

D. Tabelul de mai jos prezintă numărul de emigranți și de imigranți în două state ale Uniunii Europene, în anul 2015.

Statul	Imigranți	Emigranți
Lituania	22.130 persoane	44.533 persoane
Franța	363.869 persoane	297.969 persoane

Sursa: Eurostat

1. Calculați bilanțul migratoriu pentru Lituania.

2. Calculați bilanțul migratoriu pentru Franța.

3. Prezentați o cauza a faptului că Franța prezintă un flux mai mare de imigranți.

6 puncte

E. Precizați numele a două porturi la fluviul Rin, precum și numele statului în care se găsește fiecare (pot fi porturi fluviale sau fluvio-maritime).

4 puncte